

Prezenta lucrare conține _____ pagini

**OLIMPIADA NAȚIONALĂ DE ISTORIA ȘI
TRADIȚIILE MINORITĂȚII MAGHIARE DIN
ROMÂNIA**

**A MAGYAR KISEBBSÉG TÖRTÉNELME ÉS
HAGYOMÁNYAI TANTÁRGYVERSENY**

Szatmárnémeti, 2024. április 26-28.

VII. osztály, országos szakasz

Nume:

Elev 1:

Elev 2:

Școala de proveniență:


Centrul de concurs:

Localitatea:

Județul:

Nume și prenume asistent	Semnătura

A	COMISIA DE EVALUARE	NOTA (CIFRE ȘI LITERE)	NUMELE ȘI PRENUMELE PROFESORULUI	SEMNĂTURA
	EVALUATOR I			
	EVALUATOR II			
	EVALUATOR III			
	EVALUATOR IV			
	NOTA FINALĂ			
B	COMISIA DE EVALUARE	NOTA (CIFRE ȘI LITERE)	NUMELE ȘI PRENUMELE PROFESORULUI	SEMNĂTURA
	EVALUATOR I			
	EVALUATOR II			
	EVALUATOR III			
	EVALUATOR IV			
	NOTA FINALĂ			
C	COMISIA DE EVALUARE	NOTA (CIFRE ȘI LITERE)	NUMELE ȘI PRENUMELE PROFESORULUI	SEMNĂTURA
	EVALUATOR I			
	EVALUATOR II			
	EVALUATOR III			
	EVALUATOR IV			
	NOTA FINALĂ			



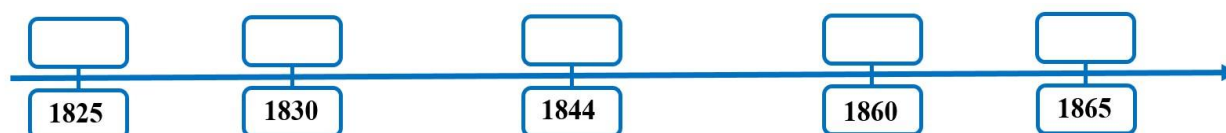
- Toate subiectele sunt obligatorii.
- Se acordă zece puncte din oficiu.
- Timpul de lucru efectiv este de două ore.
- Minden tétel kötelező.
- Hivatalból 10 pont jár.
- Munkaidő 2 óra.

I. TÉTEL

10 pont

Egészítsétek ki az idővonalat az időpontokhoz találó eseményekkel, kiválasztva őket az alábbiak közül! (Az eseménynek megfelelő betűjelet írjátok az üres dobozokba.)

a. a húsvéti cikk megírása; b. az első reformországgyűlés; c. az Osztrák-Magyar Monarchia létrejötte; d. az agyagfalvi székely nemzeti gyűlés; e. Széchenyi István temetése; f. a Magyar Tudományos Akadémia megalapítása; g. a pozsáreváci béke; h. a magyar nyelv hivatalossá tétele Magyarországon; i. a *Balítéletekről* megjelenése; j. II. József trónra lépése.



II. TÉTEL

10 pont

Magyarázzátok meg az alábbi kifejezéseket:

passzív ellenállás: _____

kettős vámrendszer: _____

ipartestület: _____

labanc: _____

Honvédelmi Bizottmány: _____

III. TÉTEL

10 pont

Oldjátok meg az alábbi keresztrejtvényt! Írjátok ki a kiemelt oszlopban megtalált szót, és írjátok róla két történelmileg hiteles információt. A kettős betűk tagjai külön négyzetbe kerülnek (pl. CS betű 2 négyzetbe kerül: C+S).

1.									
2.									
3.									
4.									
5.									
6.									
7.									

1. híres háromszéki ágyúöntő
2. horvátok elleni csatahelyszín az 1848-as forradalom idején
3. az Osztrák-Magyar Monarchia első magyar miniszterelnöke (csak a családnevét kell beírnotok)
4. 1849-es fegyverletétel helyszíne
5. 1848-ban tartott román nemzetgyűlés helyszíne
6. valamely eszméért életét áldozó személy, mártír
7. az erdélyi magyar csapatok főparancsnoka 1848-49-ben

Megfejtés: _____

Két történelmileg hiteles információ a megfejtéssel kapcsolatosan:

IV. TÉTEL

10 pont

Melyik a kakukktojás és miért? Húzzátok alá a kakukktojást és indokoljátok a választotokat!

a. Irinyi János, Vasvári Pál, Petőfi Sándor, Kossuth Lajos

indoklás: _____

b. Török Ignác, Berde Mózes, Lahner György, Damjanich János

indoklás: _____

c. Puskás Tivadar, Mikes Kelemen, Eötvös Loránd, Bánki Dónát

indoklás: _____

d. a Duna szabályozása; a pesti egyetem létrehozása; a Magyar Tudományos Akadémia létrehozása;
a gőzhajózás elindítása a Balatonon.

indoklás: _____

e. Gál Sándor, Bercsényi Miklós, Károlyi Sándor, Esze Tamás

indoklás: _____

V. TÉTEL

10 pont

Töltsétek ki az alábbi táblázatot úgy, hogy a vízszintes sorok információi kapcsolódjanak egymáshoz!

ESEMÉNY	SZEMÉLYISÉG	IDŐPONT
		1687
szatmári béke		
a tanügyi rendelet kiadása / Ratio Educationis		
		1859
A Székely Művelődési és Közgazdasági Egylet megalapítása		

VI. TÉTEL

10 pont

Kit ismertek fel az alábbi képeken? Írjátok be a megfelelő neveket a táblázat üres rovataiba!



1.



2.



3.



4.



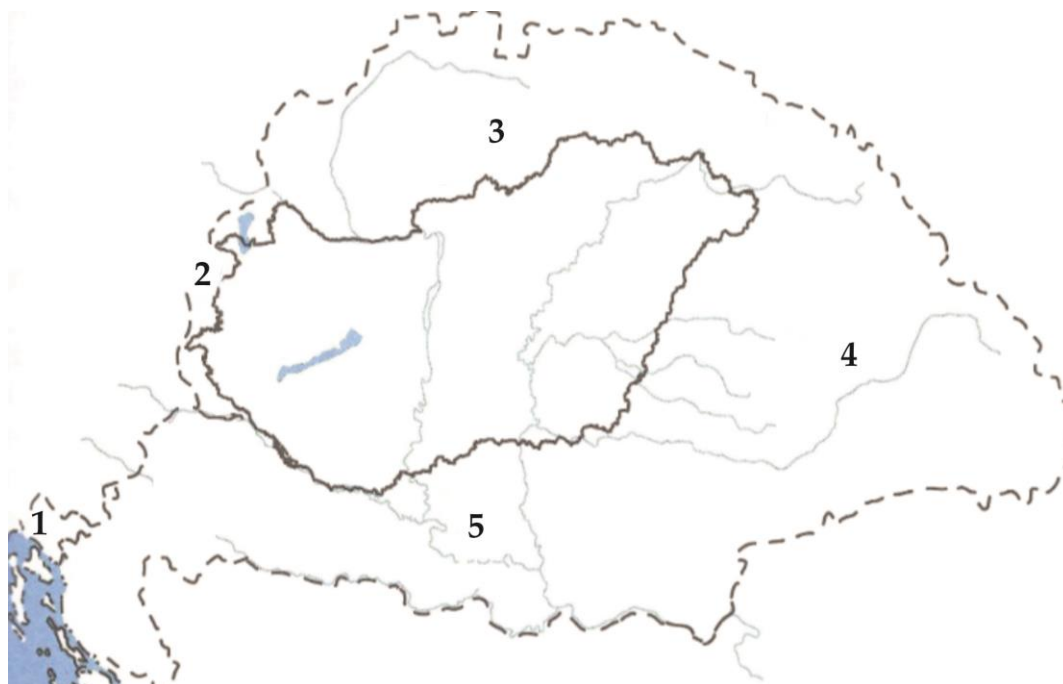
5.

1.	
2.	
3.	
4.	
5.	

VII. TÉTEL

10 pont

Írjátok le az alábbi térképen számokkal jelölt, és Magyarországtól a trianoni békeszerződéssel elcsatolt területek/történelmi tartományok neveit!



1.	
2.	
3.	
4.	
5.	

VIII. TÉTEL 20 pont

Írjatok egy összefüggő, körülbelül egy oldalas történelmi szöveget/fogalmazást, felhasználva azalábbi szavakat: Központi Hatalmak, Fekete Kéz, Breszt-Litovszk, Doberdó, Osztrák-Magyar Monarchia, IV. Károly, Román Királyság, őszirózsás forradalom.

Megjegyzés: Pontot ér a történelmi nyelvezet helyes használata, a történelmi események időrendi és logikai sorrendben való bemutatása és a megadott terjedelem betartása!

<hr/> <hr/> <hr/> <hr/> <hr/> <hr/> <hr/> <hr/> <hr/> <hr/>

Ministerul Educației
Centrul Național de Politici și Evaluare în Educație

A large rectangular area with a thin black border, containing 21 horizontal lines spaced evenly down the page, intended for writing answers.